


**1 Completa:**

20 → .....

 → vint-i-quatre

56 → .....



 → noranta-vuit

35 → .....

 → trenta-vuit

27 → .....

**2 Fes grups de 10 i escriu el nombre d'elements de cada grup:**



NOM: .....

3 Calcula:

$$\begin{array}{r} 25 \\ 53 \\ + 10 \\ \hline \end{array}$$

$$\begin{array}{r} 14 \\ 82 \\ + 1 \\ \hline \end{array}$$

$$\begin{array}{r} 52 \\ 21 \\ + 3 \\ \hline \end{array}$$

$$\begin{array}{r} 17 \\ 3 \\ + 24 \\ \hline \end{array}$$

$$\begin{array}{r} 5 \\ 12 \\ + 40 \\ \hline \end{array}$$

$$\begin{array}{r} 36 \\ 41 \\ + 22 \\ \hline \end{array}$$

4 Segueix les indicacions següents i completa el dibuix:



- La Berta és darrere del carret.
- El bitllet és a sota del carret.
- El Marc és al costat de la Berta.
- La llet és a sobre de les taronges.
- La Paula és lluny de tothom.

NOM: .....

# SOLUCIONS

## UNITAT 1

- 1 vint  
24  
cinquanta-sis  
98  
trenta-cinc  
38  
vint-i-set
- 2 1 grup de 10 – 16  
1 grup de 10 – 17  
3 grups de 10 – 34  
2 grups de 10 – 26
- 3 88; 97; 76  
44; 57; 99
- 4 Resposta procedimental.